





prénom . _____

01 Statistique tâche

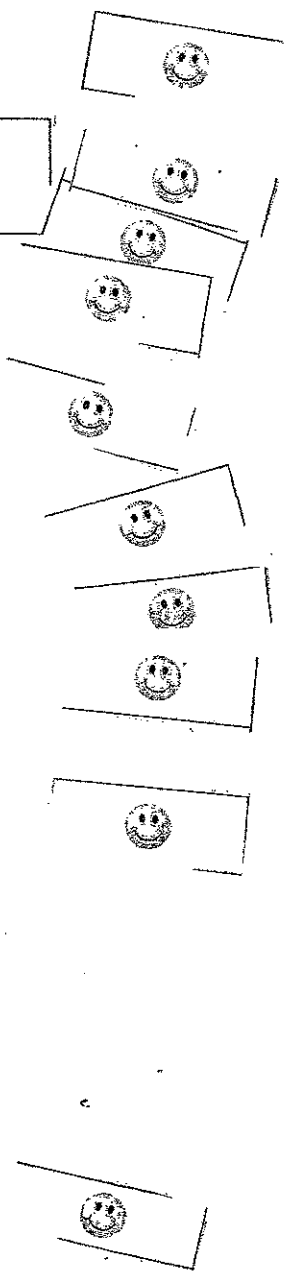
1. Je formule une question pour faire mon sondage.









Quelle est la saison préférée ?

2. Je recueille mes données.

 Été	1 1	 Automne	0
 Hiver	3	 Printemps	2

3. Je construis un diagramme à pictogrammes.



			
			
Automne	Hiver	Printemps	Été

 représente 1 élève

4. J'analyse les données représentées dans mon diagramme à pictogrammes.

a) Dans notre classe, quelle est la saison préférée des élèves ?

l'été

b) Est-ce qu'il y a des saisons qui sont autant populaires les unes aux autres? Si oui, écris-les. Si non, fais un X.

X

c) Compare le nombre d'élèves qui ont choisi l'été et le nombre d'élèves qui ont choisi l'hiver. Quelle est la différence ?

l'été parce qu'il y a plus de personnes qui ont choisi l'été

d) Combien de personnes ont répondu à ton sondage? 16

5. Je conclus que ...

l'été est le plus populaire