



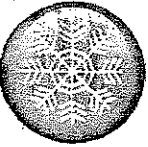

prénom : _____

01 Statistique tâche

1. Je formule une question pour faire mon sondage.

Quelle saison aimez-vous le plus.

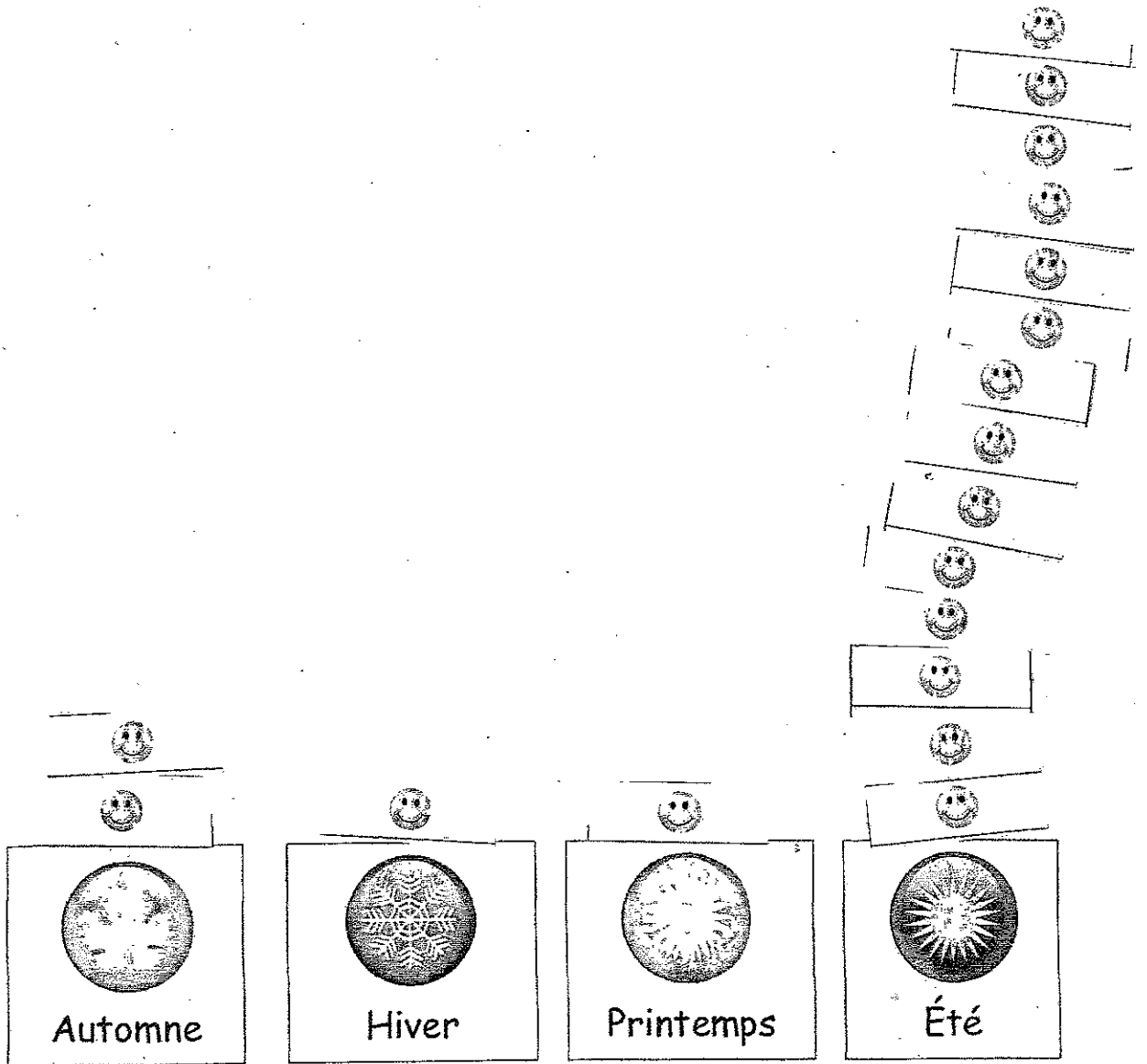
2. Je recueille mes données.

 Été 	 Automne
 Hiver 	 Printemps

3. Je construis un diagramme à pictogrammes.

Les saisons.

Les amis.



 représente 1 élève

4. J'analyse les données représentées dans mon diagramme à pictogrammes.

a) Dans notre classe, quelle est la saison préférée des élèves ?

été

b) Est-ce qu'il y a des saisons qui sont autant populaires les unes aux autres? Si oui, écris-les. Si non, fais un X.

hiver et printemps.

c) Compare le nombre d'élèves qui ont choisi l'été et le nombre d'élèves qui ont choisi l'hiver. Quelle est la différence ?

Eté : 14 élèves
Hiver : 14 élèves
on plus aimé l'été. et un ami qui a plus aimé l'hiver.

d) Combien de personnes ont répondu à ton sondage? 18

5. Je conclus que ...

Mais se que je vois se que les amis on plus aimé l'été.