


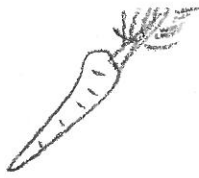
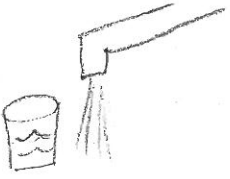
(Élément 1-Univers vivant -1^{re} année)

Tâche

1. A) Dessine un animal de ton choix.



B) Dans ton dessin ci-dessus, indique à l'aide d'une flèche et de la lettre, les parties du corps qui représentent chacun des sens : **T (toucher)**, **V (voir)**, **E (entendre)**, **G (goûter)** et **S (sentir)**.



2. Quels sont les besoins d'un animal pour survivre?

manger

3. Quels sont les besoins de cette plante pour survivre?



eau