



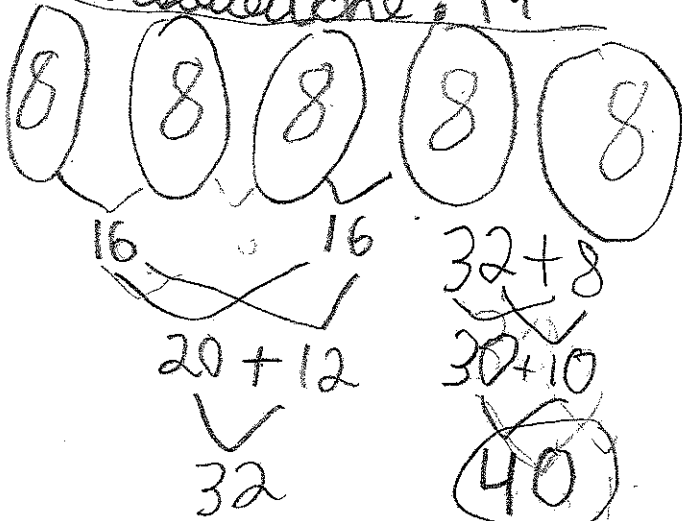
### Les bâtons de fromage

M. Craquepoutte a apporté 5 paquets de 8 bâtons de fromage pour donner aux amis et Babiouche apporte 19 autres bâtons.

① Combien de bâtons de fromage y a-t-il en tout ?

M. Craquepoutte : 5 paquets de 8 = 40

Babiouche : 19



② en tout

$$40 + 19$$



$$50 + 9$$

59 bâtons

elle a 59 bâtons de fromage en tout.


Grubule, la petite coquine, cache 35 bâtons de fromage. Kao en cache 12.

Combien de bâtons de fromage Grubule a-t-elle cachés de plus que Kao ?

① Grubule → 35

$$35 - 12 = 23$$

Kao → 12



elle a cachés 23 bâtons de fromage de plus que Kao


M. Craquepoutte partage 24 bâtons de fromage avec Grubule, Kao et Babiouche.

Combien de bâtons de fromage auront-ils chacun ?

①

M. Craquepoutte donne 24 bâtons de fromage à Grubule, Kao et Babiouche.

Bâtons de fromage



Il ~~auront~~ ont 8 bâtons de fromage chacun.