

Tâche


1. Place les étapes du cycle de vie de la poule en ordre en écrivant les nombres de 1 à 5 sous chaque image.




3



5



4



1




2

2. Identifie les différentes parties de cette plante.

fleur

feuille



3. Quel autre animal ressemble à l'original ci-dessous ?



Réponse : Cheval

4. Écris au moins trois ressemblances entre l'original et celui que tu as choisi.

- 4 pattes
- gros
- _____
- _____
- _____

5. Un ami se promène en forêt et il voit ces deux êtres vivants. Il observe des différences. Peux-tu en écrire au moins trois?



- fleur et un arbre
- gros
-
-
-

