

Tâche


1. Place les étapes du cycle de vie de la poule en ordre en écrivant les nombres de 1 à 5 sous chaque image.




3



5



4



1



2


2. Identifie les différentes parties de cette plante.

fleur

rose

feuille

Terre



3. Quel autre animal ressemble à l'original ci-dessous ?



Réponse : un chevrille

4. Écris au moins trois ressemblances entre l'original et celui que tu as choisi.

• Le chevrille a 2 cornes  
et 4 pattes

• 2 s'orille 2 sieus bleu

• une petite queue et des  
sabean

• \_\_\_\_\_

\_\_\_\_\_

• \_\_\_\_\_

\_\_\_\_\_

5. Un ami se promène en forêt et il voit ces deux êtres vivants. Il observe des différences. Peux-tu en écrire au moins trois?



- les fleurs sans bon et  
les arbres pousse des fruits
- il peut pousser des pommes
- les arbres ont une écorce
- 
-

