

Tâche


1. Place les étapes du cycle de vie de la poule en ordre en écrivant les nombres de 1 à 5 sous chaque image.




3



5



4




1



2

2. Identifie les différentes parties de cette plante.



3. Quel autre animal ressemble à l'original ci-dessous ?



Réponse : un chevreuil

4. Écris au moins trois ressemblances entre l'original et celui que tu as choisi.

• ils ont tous les deux des sabots.

• ils ont tous les deux des cornes.

• et ils ont tous les deux des arrières.

•

•

5. Un ami se promène en forêt et il voit ces deux êtres vivants. Il observe des différences. Peux-tu en écrire au moins trois?



- le corps de l'arbre est du bois et la fleur a une tige.
- la fleur a du nectare et un arbre n'a pas de pollen.
- l'arbre est gros la fleur est petit.

- 
-