

Sciences humaines – 4^e année

Le Nouveau-Brunswick d'aujourd'hui

Copie type de niveau 3

Justification

La question 1 est de niveau 4. L'élève localise sa province et décrit sa situation géographique en se servant de plusieurs repères.

La question 2 est de niveau 3. L'élève décrit des caractéristiques de sa province (population, milieu naturel et construit, atouts et contraintes, etc.). Il établit certains liens entre les actions humaines et l'aménagement de ce territoire. La région de Miramichi a le plus de tourbe selon la carte, une grande population et un aéroport.

La question 3 est de niveau 3. L'élève explique l'influence de personnes et/ou d'événements sur l'organisation de sa province sur son territoire (mais pas en détail).

Globalement, cette copie-type est de niveau 3.

Copie type

Le travail de l'élève débute à la page suivante.

Sciences humaines

Le Nouveau-Brunswick d'aujourd'hui – 4^e année

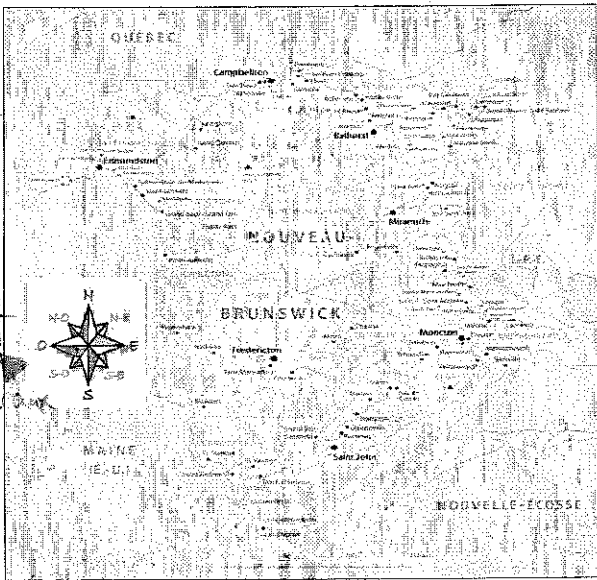
Tâche

Mise en situation :

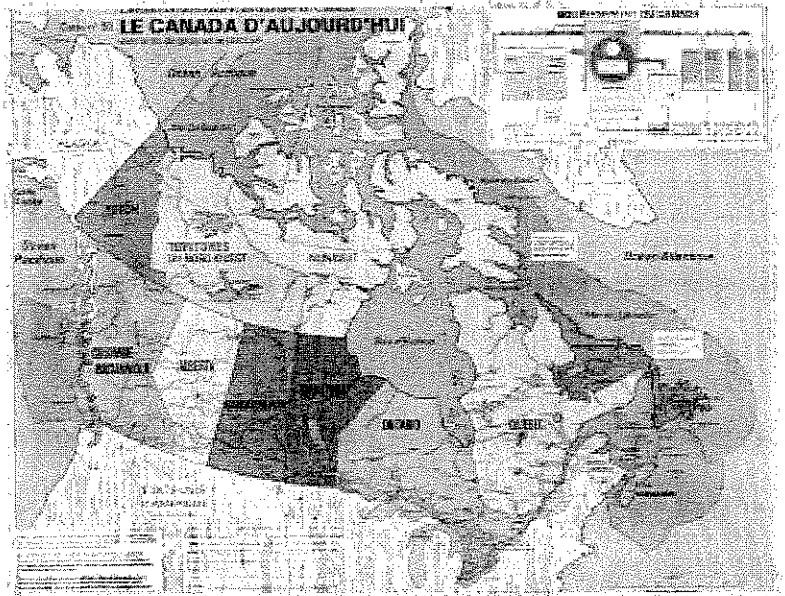
Une entrepreneure spécialisée en tourbe, Mme Pouce Vert, veut s'installer dans la province. La tourbe est une matière spongieuse formée de végétaux décomposés. Elle est très utilisée en agriculture. On la récolte à l'aide de grands aspirateurs.



Mousse de sphaigne dans une *tourbière*, Le Nouveau-Brunswick; je découvre ma région et ma province, p. 176



Point
cardinaux



- a) Nomme ta province : Nouveau-Brunswick
- b) Décris la situation géographique de ta province à l'aide des trois repères suivants:

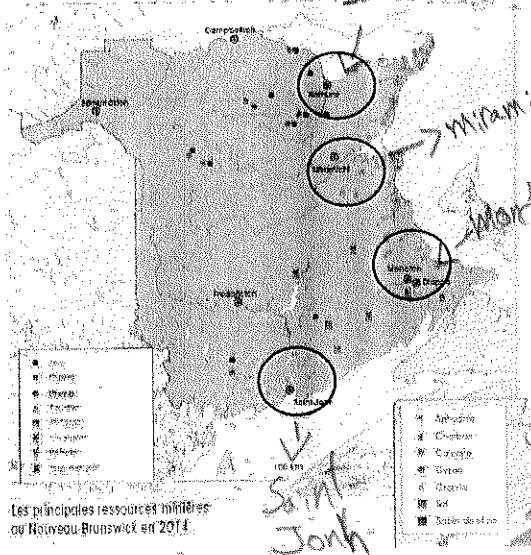
- Points cardinaux
- Cours d'eau
- Régions voisines

Le Nouveau-Brunswick est situé au Sud-Est du Canada. Le N-B. est situé tout près de la Nouvelle-Écosse et du fleuve Saint-Laurent.

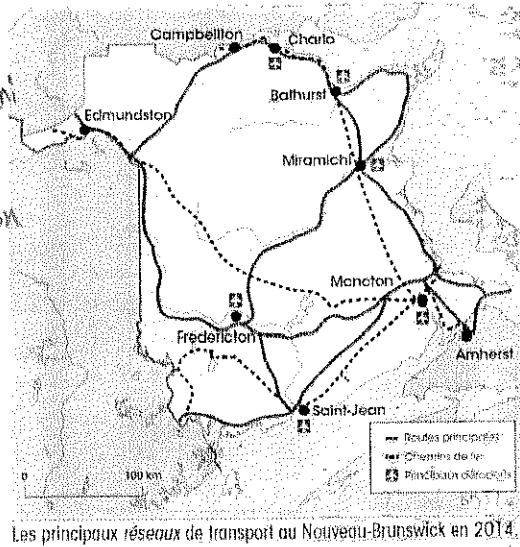
Question 2

Ces trois cartes t'aideront à répondre aux prochaines questions.

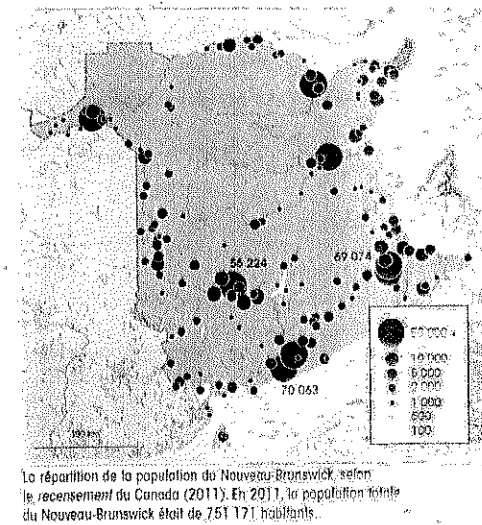
CARTE A



CARTE B



CARTE C



a) Mme Vert souhaite installer son industrie dans un endroit qui répond aux trois conditions suivantes :

- Accès à une grande quantité de tourbe.
- Accès à trois moyens de transport
- Près d'une zone très peuplée

Quelles villes encerclées dans la carte A répond aux trois critères de Mme Vert ?

Bathurst, car c'est l'endroit où il y a le plus de tourbe.

b) Selon toi, quel critère est le plus important pour aider Mme Vert à faire un choix ?

Critère: accès à une grande quantité de tourbe.

Explique pourquoi tu as choisi ce critère.

Car ce serait plus facile d'aller chercher des tourbes et elle n'aurait pas besoin de trois moyens de transport. Aussi, Bathurst est une zone assez peuplée.


Question 3

La venue de cette industrie est une bonne nouvelle pour l'économie provinciale.

Je suis contente de m'installer ici, mon industrie va créer de nouveaux emplois, fournira de l'engrais pour vos jardins et encouragera d'autres entrepreneurs à venir dans la province.



C'est vrai que mes machines peuvent être bruyantes et qu'il y aura beaucoup plus de camions sur les routes de la région. J'espère que les gens seront contents de l'arrivée de mon entreprise dans la communauté.



Explique pourquoi certaines personnes ne sont pas contents de l'arrivée d'une autre usine de tourbe dans la province.

Car cette machine est très bruyante
et y il aura beaucoup plus
de camions sur les routes de
la région.