

Sciences humaines – 5^e année

Les provinces de l'Atlantique d'aujourd'hui

Copie type de niveau 1

Justification

Pour la situation géographique des provinces de l'Atlantique, l'élève éprouve de la difficulté à localiser les provinces atlantiques et à décrire leur situation géographique en se servant de repères. L'élève aurait dû utiliser les 3 repères pour écrire dans une phrase complète la localisation des provinces de l'Atlantique.

Pour les caractéristiques des provinces de l'Atlantique, l'élève **nomme** des caractéristiques des provinces atlantiques (groupes ethniques, milieu naturel et construit, atouts et contraintes, etc.).

Pour l'influence de personnes sur la société et l'organisation du territoire. Le niveau 1 de l'échelle se lit comme suit : L'élève a de la difficulté à **nommer** des personnes influentes (dirigeants politiques, membres de la société des jeux de l'Acadie, de la société nationale de l'Acadie, etc.) sur l'organisation des provinces atlantiques sur leur territoire. Cependant l'élève a de la difficulté à décrire le rôle de la personne influente dans cette copie type. Nous devrions changer l'échelle pour mieux refléter cette situation.

Copie type

Le travail de l'élève débute à la page suivante.

Les provinces de l'Atlantique d'aujourd'hui – 5^e année

Tâche

Carole, une élève de la Louisiane qui participe aux Jeux de l'Acadie, viendra te visiter à la fin juin. Tu l'accueilleras chez toi pour la durée de son séjour afin de lui faire découvrir les provinces atlantiques. Elle doit prendre des notes pour une présentation qu'elle fera à sa classe à son retour chez-elle. Aide-lui à compléter sa recherche.

Question 1

a) Quel est le nom des provinces qui forment les provinces atlantiques ?

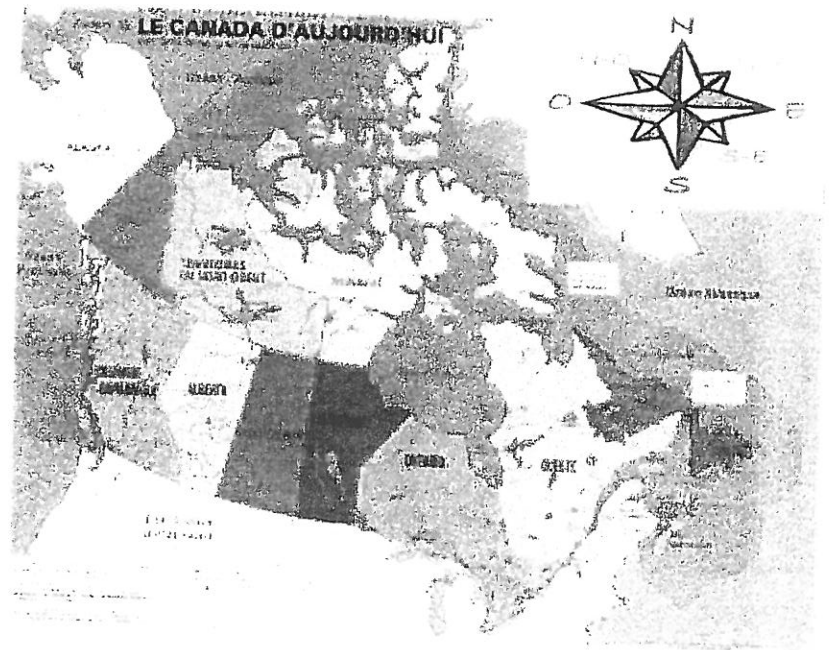
Ile prince Edward, Nouveau-Brunswick, Nouvelle-Écosse, Terre neuve et Labrador.

b) Décris la situation géographique des provinces de l'Atlantique à l'aide des trois repères suivants :

- 🍏 Points cardinaux ✓
- 🍏 Cours d'eau ✓
- 🍏 Régions voisines

S-E Océan Atlantique

Québec États Unis



Question 2

En te référant au tableau ci-dessous, décris la population des provinces de l'Atlantique en présentant les caractéristiques suivantes :

- 🍏 Groupes ethniques
- 🍏 Provinces les plus peuplées et les moins peuplées

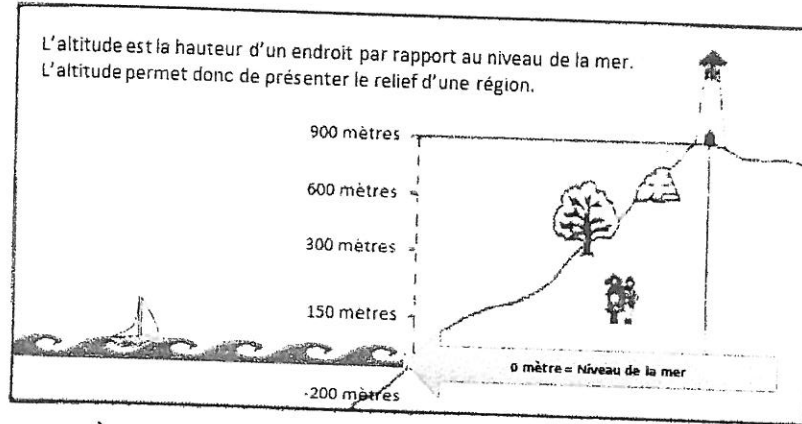
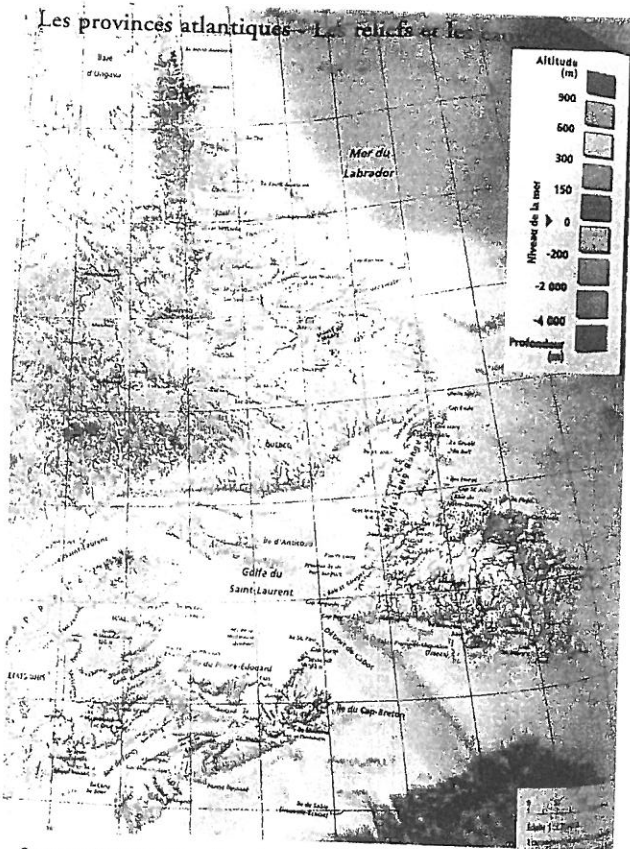
Si tu veux plus population francophone c'est le N-B, anglophone N-E, autochtone T-N-E-L-I-D-P-E a le moins de population.

Population des provinces de l'Atlantique (nombre d'habitants)				
Provinces	Terre-Neuve et Labrador	Île-du-Prince-Édouard	Nouvelle-Écosse	Nouveau-Brunswick
Population (2016)	519 716	142 907	923 598	747 101
Population francophone (2011)*	1 770	4 825	30 155	210 610
Population anglophone (2011)*	497 055	127 440	836 855	511 920
Population autochtone (2011)	43 395	2 230	33 845	22 615

* Première langue apprise à la maison dans l'enfance et encore comprise par le répondant

Source : Statistique Canada

Question 3



- a) À l'aide de la carte A ci-contre, décris le relief des provinces atlantiques en présentant les éléments suivants :
- 🍏 Éléments du relief qui se ressemblent d'une province à l'autre
 - 🍏 Éléments du relief qui sont différents d'une province à l'autre
 - 🍏 Dans ta réponse, n'oublie pas de préciser la ou les provinces que tu décris.

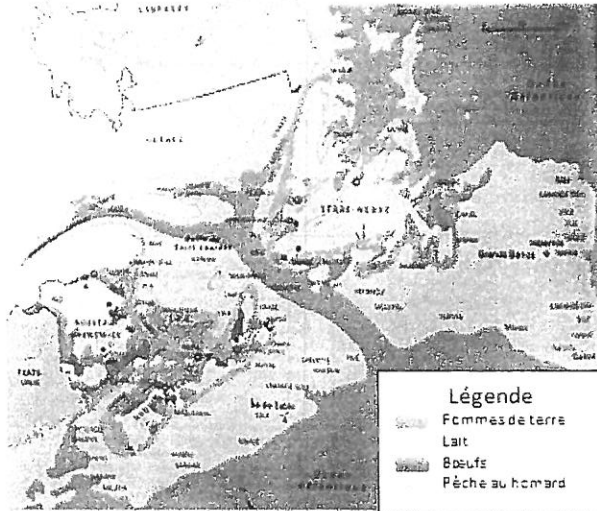
Source : Atlas atlantique Beauchemin, p. 68.

Il y a T-N-E-L qui n'a pas beaucoup de vert quand T-D-P-E à just du vert. Ils ont toutes de l'eau au tour.

Figure 1.1. Ressources halieutiques par province de l'Atlantique (1997)

Carte des ressources des provinces atlantiques

Réponds à la question suivante en t'aidant de la carte ci-contre.



b) Quelle ressource est beaucoup exploitée dans toutes les provinces de l'Atlantique ?

Pêche aux homards

Explique ton choix.

Tout les provinces sont proche de l'eau, alors ils font beaucoup de pêche à homard.

Répond à la question suivante à l'aide des cartes des pages 3 et 4.

c) Une famille immigrante désire s'installer dans la région de l'Atlantique, mais elle a besoin de ton aide pour choisir la meilleure province où déménager. Voici leurs critères pour choisir la meilleure province :

- 🍏 Ce sont des éleveurs de vaches laitières.
- 🍏 Ils aimeraient être entourés de plusieurs éleveurs pour créer un groupe de fermiers.
- 🍏 Ils aimeraient pratiquer du ski alpin (ski de montagne) sans trop s'éloigner de leur maison.

Selon les critères ci-dessus, dans quelle province les encourages-tu à déménager?

N-B

Justifie ta réponse à l'aide des cartes des pages 3 et 4.

Car il y a tout et même une montagne très grosse.

Question 4

a - La question se répond à l'aide du texte qui suit.

Un parti politique est un groupe de personnes qui partagent les mêmes opinions sur des sujets importants de la société. Le parti politique qui fait élire le plus grand nombre de *députés* dans une élection forme le gouvernement. Le chef de ce parti devient le premier ministre.

Le premier ministre est le chef du gouvernement. Il choisit certains *députés* qui deviennent des ministres. Chaque ministre est responsable d'un ou de plusieurs dossiers, comme l'éducation ou la santé. Chaque ministre donne des conseils au premier ministre au sujet de son dossier.

Les autres partis forment l'*opposition*. Le rôle de l'*opposition* est de s'assurer que le gouvernement fait bien son travail. Les membres de l'*opposition* questionnent les actions du gouvernement. Ils proposent d'autres actions à prendre.

Carole remarque des affiches d'élections provinciales installées un peu partout. Elle te demande de lui parler des dirigeants politiques. Tu choisis de lui décrire le rôle d'une des personnes suivantes en précisant que le rôle est semblable d'une province à l'autre :

- 🍏 Député
- 🍏 ~~Premier ministre~~
- 🍏 Ministre
- 🍏 Chef de l'opposition

Dans tes mots, décris le rôle d'une des personnes que tu as choisi.

Le rôle du Premier ministre est d'être le chef de la province et du gouvernement.

b- En te référant aux manchettes (titres de nouvelles) qui suivent, explique dans tes mots, comment un politicien peut influencer la vie quotidienne des gens.

Cela nous aide car il ya pas tres
beaucoup d'hôpital et ce n'est pas bon pour
l'agriculture si y a trop d'agriculture
ne poussera pas.

