

## Sciences humaines – 5<sup>e</sup> année

### Les provinces de l'Atlantique d'aujourd'hui

#### Copie type de niveau 4

**Justification** - Pour la question 1, l'élève localise les provinces atlantiques et décrit leur situation géographique en se servant de **plusieurs** repères.

Pour les questions 2 et 3, l'élève établit certains liens entre les principales activités économiques, l'aménagement du territoire et les besoins. Pour la question 3 c (afin de tenir compte du 2<sup>e</sup> critère de la question - entouré de plusieurs éleveurs), l'élève aurait dû répondre Nouvelle-Écosse mais pas Cap-Breton ou encore le Nouveau-Brunswick.

Pour la question 4, l'élève **explique de façon détaillée** l'influence de personnes (dirigeants politiques, membres de la société des jeux de l'Acadie, de la société nationale de l'Acadie, etc.) sur l'organisation des provinces atlantiques sur leur territoire.

#### Note

Afin que cette copie soit réellement un niveau 4, l'élève devrait respecter tous les critères de la question 3 c.

**Copie type** - Le travail de l'élève débute à la page suivante.

Les provinces de l'Atlantiques d'aujourd'hui – 5<sup>e</sup> année

Tâche

Carole, une élève de la Louisiane qui participe aux Jeux de l'Acadie, viendra te visiter à la fin juin. Tu l'accueilleras chez toi pour la durée de son séjour afin de lui faire découvrir les provinces atlantiques. Elle doit prendre des notes pour une présentation qu'elle fera à sa classe à son retour chez-elle. Aide-lui à compléter sa recherche.

Question 1

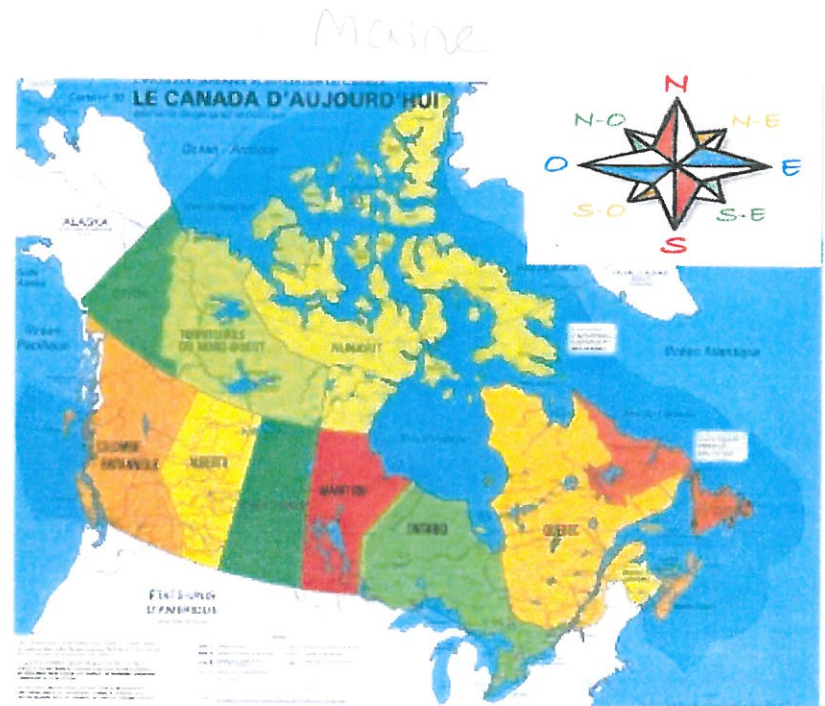
a) Quel est le nom des provinces qui forment les provinces atlantiques ?

Le nom des provinces qui forment les provinces atlantiques sont Nouveau-Brunswick, Nouvelle-Écosse, Île-du-prince-Édouard et Terre-Neuve et Labrador.

b) Décris la situation géographique des provinces de l'Atlantique à l'aide des trois repères suivants :

- 🍏 Points cardinaux
- 🍏 Cours d'eau
- 🍏 Régions voisines

Les provinces de l'Atlantique sont situées au Sud-Est du Canada à côté de l'Océan Atlantique. Leurs régions voisines sont Maine des États-Unis et de Québec.



## Question 2

En te référant au tableau ci-dessous, décris la population des provinces de l'Atlantique en présentant les caractéristiques suivantes :

- Groupes ethniques
- Provinces les plus peuplées et les moins peuplées

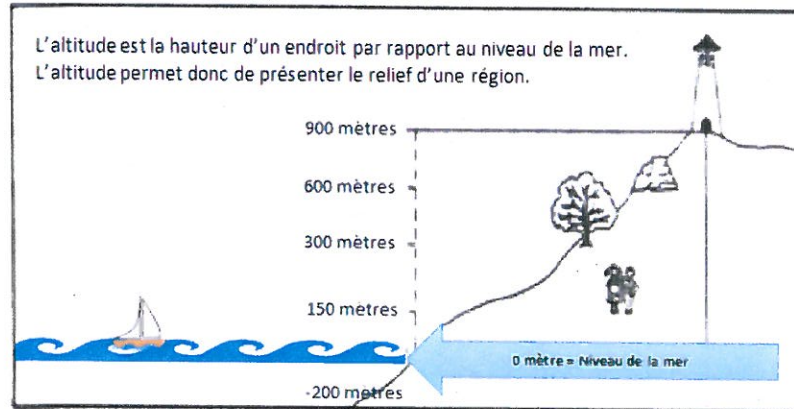
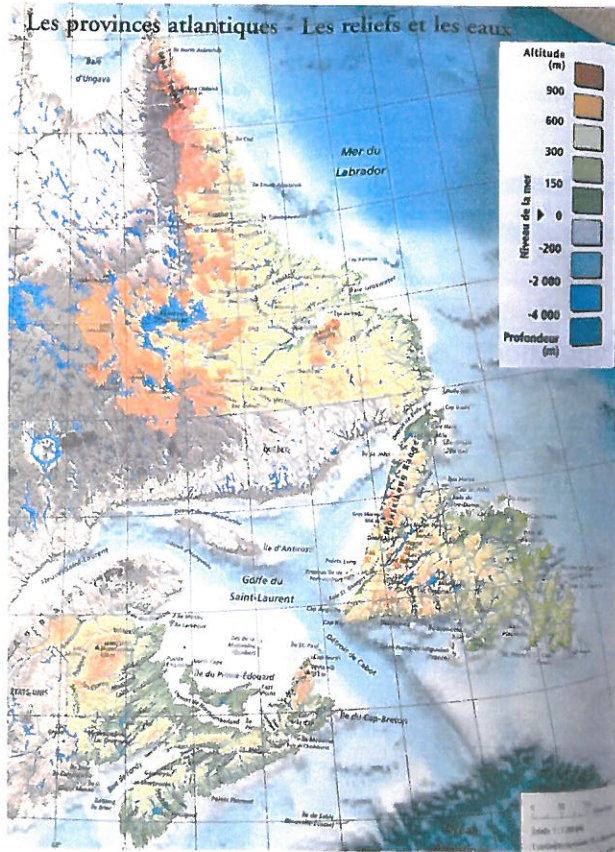
Les groupes ethniques des provinces Atlantique sont les anglophone, les francophones et les autochtones. Le Nouveau-Brunswick a le plus de francophone, la Nouvelle-Écosse le plus d'anglophone. Mais en général la Nouvelle-Écosse est la plus peuplée et l'Île-du-Prince-Édouard la moins peuplée.

Population des provinces de l'Atlantique (nombre d'habitants)				
Provinces	Terre-Neuve et Labrador	Île-du-Prince-Édouard	Nouvelle-Écosse	Nouveau-Brunswick
Population (2016)	519 716	142 907	923 598	747 101
Population francophone (2011)*	1 770	4 825	30 155	210 610
Population anglophone (2011)*	497 055	127 440	836 855	511 920
Population autochtone (2011)	43 395	2 230	33 845	22 615

\* Première langue apprise à la maison dans l'enfance et encore comprise par le répondant

Source : Statistique Canada

### Question 3



a) À l'aide de la carte A ci-contre, décris le relief des provinces atlantiques en présentant les éléments suivants :

- 🍏 Éléments du relief qui se ressemblent d'une province à l'autre
- 🍏 Éléments du relief qui sont différents d'une province à l'autre
- 🍏 Dans ta réponse, n'oublie pas de préciser la ou les provinces que tu décris.

Source : Atlas atlantique Beauchemin, p. 68.

Le Nouveau-Brunswick et Terre-Neuve et Labrador ont des reliefs très similaires mais aussi très différents de la Nouvelle-Écosse et l'Île-du-prince-Édouard. Terre-Neuve a une chaîne de montagnes très élevés comparés aux autres provinces. Mais le Nouveau-Brunswick, l'Île-du-prince-Édouard et la Nouvelle-Écosse sont moins élevés et très proche du niveau de la mer.





## Carte des ressources des provinces atlantiques

Réponds à la question suivante en t'aidant de la carte ci-contre.

b) Quelle ressource est beaucoup exploitée dans toutes les provinces de l'Atlantique ?

La pêche à homard

Explique ton choix.

La pêche à homard est une ressource beaucoup exploitée dans toutes les provinces de l'Atlantique car ces provinces sont entourées d'eau alors la pêche est très importante.

Répond à la question suivante à l'aide des cartes des pages 3 et 4.

c) Une famille immigrante désire s'installer dans la région de l'Atlantique, mais elle a besoin de ton aide pour choisir la meilleure province où déménager. Voici leurs critères pour choisir la meilleure province :

- 🍏 Ce sont des éleveurs de vaches laitières.
- 🍏 Ils aimeraient être entourés de plusieurs éleveurs pour créer un groupe de fermiers.
- 🍏 Ils aimeraient pratiquer du ski alpin (ski de montagne) sans trop s'éloigner de leur maison.

Selon les critères ci-dessus, dans quelle province les encourages-tu à déménager? La Nouvelle-Écosse (Cap Breton)

Justifie ta réponse à l'aide des cartes des pages 3 et 4.

La famille immigrante devrait déménager en Nouvelle-Écosse plus spécifiquement l'île du Cap Breton car il y a des éleveurs de vaches laitières et non laitières. En plus, il y a une montagne pas trop loin.

#### Question 4

a - La question se répond à l'aide du texte qui suit.

**Un parti politique** est un groupe de personnes qui partagent les mêmes opinions sur des sujets importants de la société. Le parti politique qui fait élire le plus grand nombre de *députés* dans une élection forme **le gouvernement**. Le chef de ce parti devient **le premier ministre**.

**Le premier ministre** est le chef du gouvernement. Il choisit certains *députés* qui deviennent **des ministres**. Chaque ministre est responsable d'un ou de plusieurs dossiers, comme l'éducation ou la santé. Chaque ministre donne des conseils au premier ministre au sujet de son dossier.

Les autres partis forment **l'opposition**. Le rôle de *l'opposition* est de s'assurer que le gouvernement fait bien son travail. Les membres de *l'opposition* questionnent les actions du gouvernement. Ils proposent d'autres actions à prendre.

Carole remarque des affiches d'élections provinciales installées un peu partout. Elle te demande de lui parler des dirigeants politiques. Tu choisis de lui décrire le rôle d'une des personnes suivantes en précisant que le rôle est semblable d'une province à l'autre :

- 🍏 Député
- 🍏 Premier ministre
- 🍏 **Ministre**
- 🍏 Chef de l'opposition

Dans tes mots, décris le rôle d'une des personnes que tu as choisi.

Le rôle d'un ministre est de donner des conseils au Premier-Ministre à propos de son sujet comme par exemple le ministre de l'éducation pourrait conseiller au Premier-Ministre de payer les enseignantes plus d'argent.

b- En te référant aux manchettes (titres de nouvelles) qui suivent, explique dans tes mots, comment un politicien peut influencer la vie quotidienne des gens.

Les policiers influencer la vie quotidienne des gens en assurant de leur santé et sécurité. Ils peuvent aussi aider des agriculteurs, des infirmières, des enseignants et etc... pour influencer notre mieux-être en général.

