

## **Sciences humaines – 8<sup>e</sup> année**

### **Comparaison entre l'organisation de différentes sociétés du Moyen Âge et de la Renaissance**

#### **Copie type de niveau 1**

##### **Justification**

L'élève localise difficilement la société à l'étude et une société semblable ailleurs dans le monde sur une carte et sur la ligne du temps. Également, l'élève identifie difficilement des caractéristiques de la société à l'étude et/ou celles d'une société semblable ailleurs dans le monde sans toutefois les comparer.

##### **Copie type**

Le travail de l'élève débute à la page suivante.

## Sciences humaines – 8<sup>e</sup> ann e

### Comparaison entre l'organisation de diff rentes soci t s du Moyen  ge et de la Renaissance

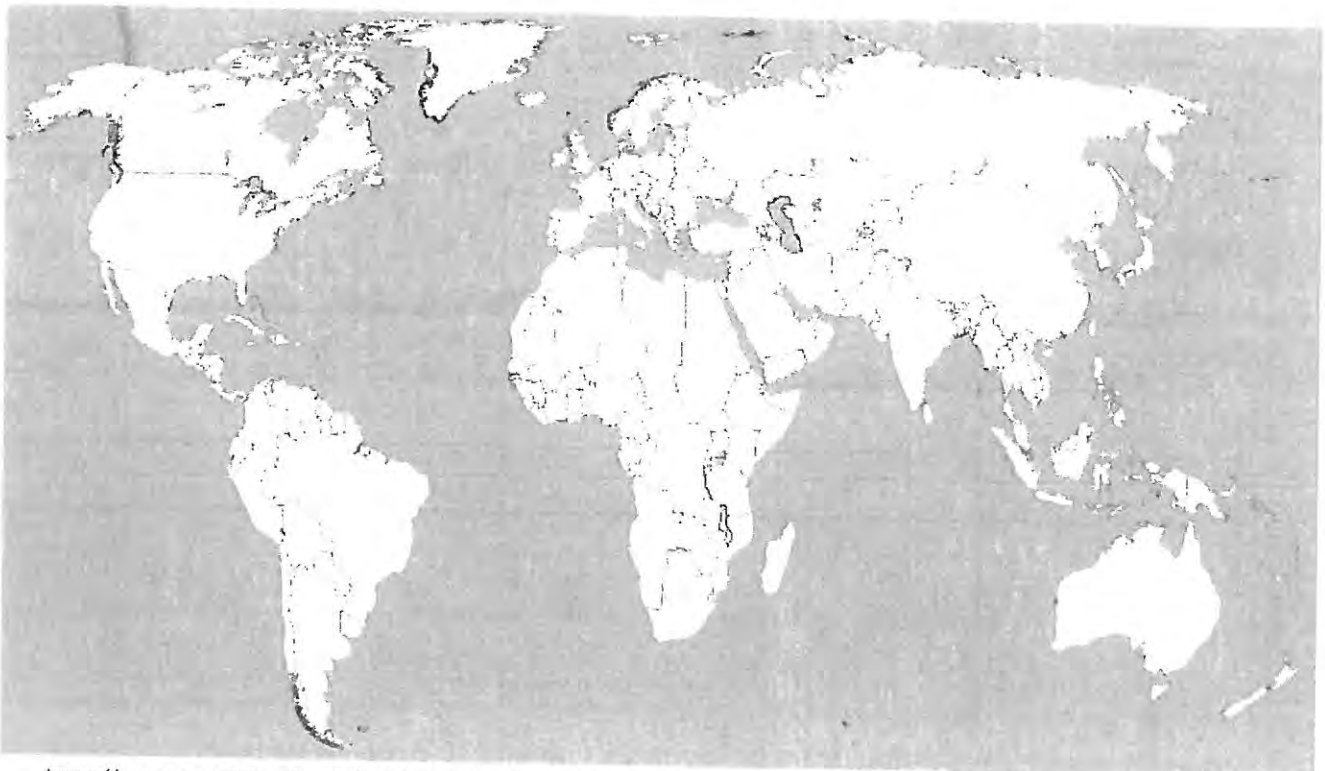
#### T che signifiante

Tu es un **pr tre** en Europe du Moyen  ge et tu veux visiter la civilisation des Azt ques pour comprendre les diff rences et les ressemblances de la religion de ces deux soci t s.

L'empire azt que couvrait approximativement le Mexique actuel. Sa magnifique capitale, Tenochtitlan, fut b tie dans la vall e de Mexico, sur une ile du lac Texcoco. Aujourd'hui, la capitale du Mexique, Mexico, est construite sur le m me site.

*Entrez chez les Azt ques, page 4*

1. a.) En te r f rant aux annexes 1 et 2, encerle sur la carte, ton point de d part et ton point d'arriv e.   l'aide d'une fl che, indique le trajet que tu vas prendre pour te rendre   ta destination.



[https://commons.wikimedia.org/wiki/File:Carte\\_du\\_monde\\_vierge\\_\(Allemagne\\_s%C3%A9par%C3%A9es\).svg](https://commons.wikimedia.org/wiki/File:Carte_du_monde_vierge_(Allemagne_s%C3%A9par%C3%A9es).svg)

b.) Explique par quel océan tu dois passer et vers quel continent tu dois te diriger pour aller voir les Aztèques.

Aujourd'hui, la capitale du Mexique, est construite sur le même site. pays 4

2.


a.) À l'aide de l'annexe 4, comment décrirais-tu la religion dans la civilisation Aztèques (leurs dieux, leurs croyances, leurs lieux de prière, etc.)?

leurs dieux «Dieux» sur Terre. Ils sont honorés toute l'année comme des divinités, mais on les sacrifie.

b.) À l'aide de l'annexe 3, comment décrirais-tu ta religion comme prêtre au Moyen Âge?

la religion, au Moyen Âge, occupe une plus très importante dans la société.

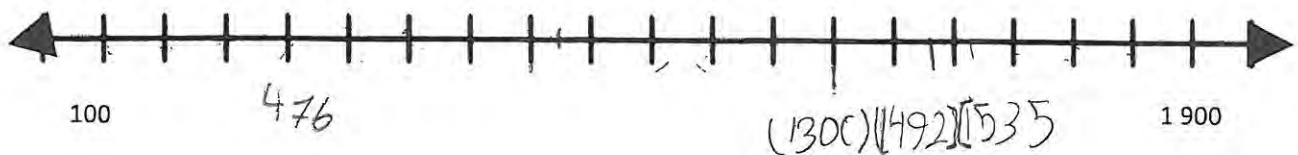
c.) Quelles sont des ressemblances et des différences ? Tu peux utiliser un diagramme ou un dessin pour illustrer ta réponse.



3. En Utilisant la ligne du temps ci-dessous et les annexes 3 et 4, colorie la section qui représente les périodes suivantes :

a) Moyen Âge en bleu

b. La période de la civilisation des Aztèques en rouge



Annexe 3: 476 - 1492

Annexe 4: 1492 - 1535